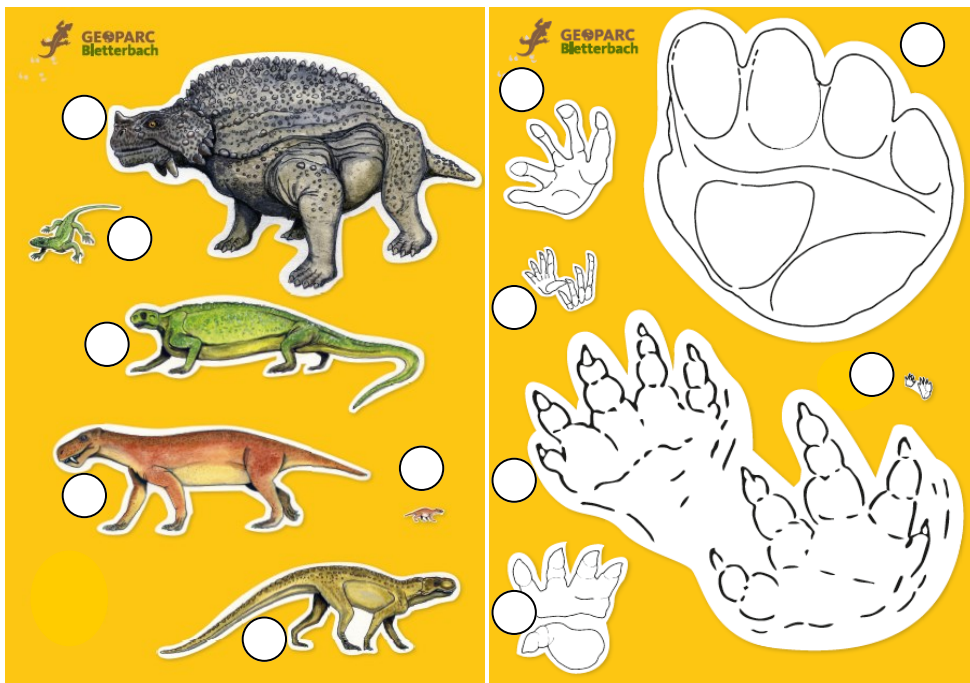


Annotate qui i risultati e inserite i numeri corrispondenti.
Quali orme appartengono a quali animali? Se volete potete scrivere anche qualche nome di animale o di orma.



Giganti vegetariani: _____

Rettile feroci: _____

Rettile simili a lucertole: _____

Antenati dei dinosauri: _____

Orme di rettile mammifero: _____

Diario di ricerca

Data _____

Gruppo di lavoro

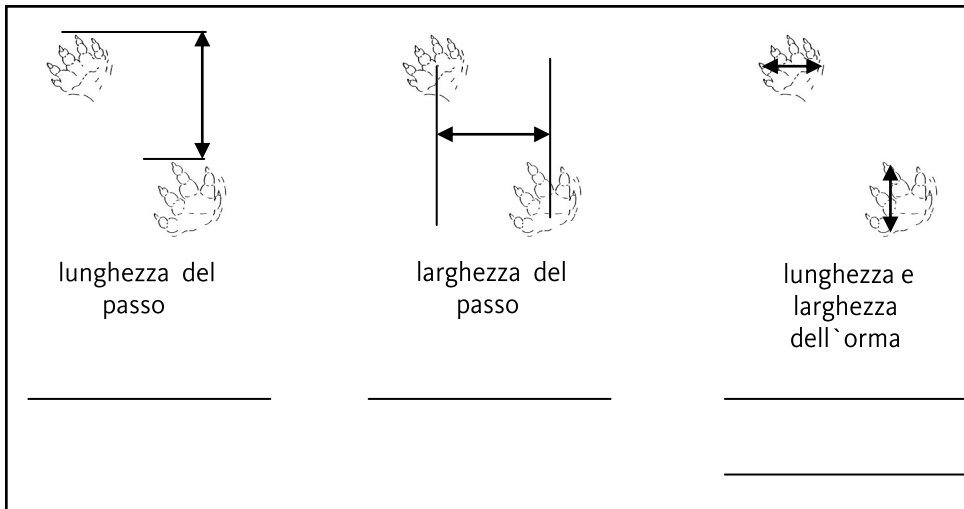
Consulente scientifico



Tema:

ANIMALI


Scienziati hanno trovato nel Bletterbach impronte fossili di animali da molto tempo scomparsi. Per poter misurare meglio le impronte trovate si trasportano con un pennarello su un foglio trasparente. Ora è più semplice determinare la grandezza dell'impronta, la lunghezza e la larghezza del passo. Realizzate ora un foglio su cui copiate le impronte. Misuratele sul vostro disegno e riportate qui i risultati.



Abbiamo misurato anche le grandi impronte del pareiasauro. Ecco i dati:

Cercate di disegnare le impronte del pareiasauro. Naturalmente non è possibile farlo nella grandezza originale. Dovete ridurle correttamente in scala. Quale delle tre possibilità è quella più adatta?

scala 1:5 scala 1:100 scala 1:2



Quali orme appartengono a quali animali? L'attribuzione non è sempre facile nemmeno per gli scienziati. Si tratta forse di una specie non ancora scoperta? Cercate ora con il gioco di abbinare correttamente i cartellini agli animali raffigurati.